

# 2024 年山东省春季高考第一次模拟考试

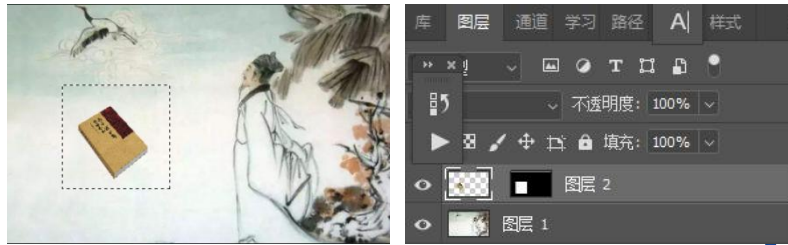
## 《数字媒体类专业》试题

本试卷分卷一（选择题）和卷二（非选择题）两部分，满分200分，考试时间120分钟，考生请在答题卡上答题，考试结束后，请将本试卷和答题卡一并交回。

### 卷一（选择题，共100分）

一、选择题（本大题 50 小题，每题 2 分，共 100 分。在每小题列出的四个选项中，只有一项符合题目要求，请将符合题目要求的选项字母代号选出，并涂在答题卡上）

- 关于 CMYK 颜色模式的描述，下列说法正确的是（ ）
  - A. CMYK 模式的色彩范围最广
  - B. CMYK 模式的色彩数比 RGB 模式多
  - C. 印刷可以使用 CMYK 模式
  - D. RGB 和 CMYK 模式相互转换时不会丢失颜色
- 在 Photoshop CC 中提供的图层合并方式不包括（ ）
  - A. 向下合并
  - B. 合并所有图层
  - C. 拼合图像
  - D. 合并可见图层
- 在 PS 中，将复制的图像粘贴到另一幅的选区中显示，可使用的操作是（ ）



- A. Ctrl+C
- B. Ctrl+Alt+Shift+T
- C. Ctrl+Alt+Shift+V
- D. Ctrl+X

4. photoshop 的“图层”面板中，用于锁定图像像素的按钮是（ ）

- A.
- B.
- C.
- D.

5. 同等尺寸和分辨率的图像，占用磁盘空间最大的储存格式是（ ）

- A. BMP
- B. JPEG
- C. GIF
- D. PNG

6. 在 PS 中将当前历史记录状态下的图形保存为一个新图像文件的按钮是（ ）

- A.
- B.
- C.
- D.

7. 当前图层状态如图 1-1 所示，按 Ctrl+Shift+Alt+E 后，图层面板上图层数目是（ ）

- A. 1
- B. 3
- C. 4
- D. 2

8. 对图 1-2 中“图层 2”执行“置为底层”命令后，图层的变化是（ ）

- A. 图层 2 成为背景层在最底层，背景层转为普通层

- B. 图层 2 下移一层
- C. 图层 2 移动到背景层和图层 1 之间
- D. 图层 2 不动

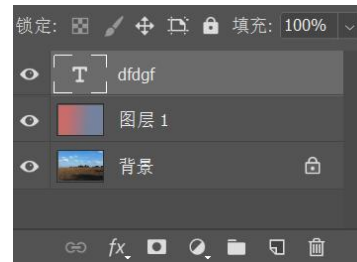


图 1-1

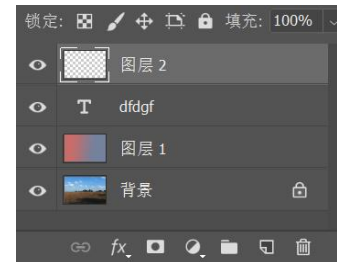


图 1-2

9. 下列哪种操作默认的情况下，使用前景色绘图，但鼠标落在与前景色相同的颜色上时，使用背景色绘图（ ）

- A. 铅笔工具并勾选“手指绘画”
- B. 铅笔工具并勾选“自动抹除”
- C. 画笔工具并勾选“创建纹理”
- D. 橡皮擦工具并勾选“抹到历史记录”

10. Alpha 通道最主要的用途是（ ）

- A. 保存图像色彩信息
- B. 创建新通道
- C. 存储和建立选区
- D. 为路径提供通道

11. PS 中要从左向右绘制  $\longleftrightarrow$  需要设置的选项是（ ）

- A. 起点，凹度为 50%
- B. 起点、终点，凹度为 50%
- C. 终点，凹度为 -50%
- D. 起点、终点，凹度为 -50%

12. 能够实现如图所示效果的图像调整命令是（ ）



- A. 反相
- B. 黑白
- C. 阈值
- D. 渐变映射

13. 在 Photoshop CC 中，适合抠取半透明轮廓图像的是（ ）

- A. 通道
- B. 套索
- C. 快速选择
- D. 钢笔

14. 图像色调调节命令中，可以调节曲线中的任意点也可以针对不同的颜色通道进行调整，这个精确的图像明暗调整命令是（ ）

- A. 阴影/高光
- B. 曲线
- C. 亮度/对比度
- D. 色阶

15. 在 Photoshop CC 中，要将角点转换为平滑点，应执行的操作是（ ）

- A. 用“转换点工具”，单击并拖动角点    B. 用“钢笔工具”按住 Ctrl 键单击角点  
C. 用“转换点工具”，单击角点        D. 用“转换点工具”，按住 Alt 键单击角点

16. Dreamweaver CC 中要对插入的图像设置热点，不可以设置（ ）

- A. 矩形区域热点    B. 圆形区域热点    C. 多边形区域热点    D. 任意形状热点

17. 站点被导出后，生成的站点定义文件中（ ）

- A. 仅包括站点定义信息，不包括任何网页文件  
B. 包括站点定义信息和首页文件  
C. 包括站点定义信息和所有站点文件夹中的文件  
D. 仅包括首页文件和模板文档

18. Dreamweaver CC 中将超链接的页面在当前浏览器窗口打开，应设置目标选项为（ ）

- A. \_blank        B. \_self        C. \_top        D. \_parent

19. 单元格标记<td>中不包括的属性是

- A. rowspan        B. bgcolor        C. cellpadding        D. height

20. 在表单中包含性别选项，默认状态为“女”且被选中，下列正确的是（ ）

- A. <input type="radio" name="sex" checked>女  
B. <input type="radio" name="sex" enabled>女  
C. <input type="checkbox" name="sex" checked>女  
D. <input type="checkbox" name="sex" enabled>女

21. Dreamweaver CC 中 CSS 样式表位于文档的（ ）区。

- A. <head>        B. <title>        C. <body>        D. <table>

22. 要想隐藏 AP div 内容，需要将其属性中可见性下拉列表中设置为（ ）

- A. default        B. inherit        C. visible        D. Hidden

23. 网页打开时出现自动飞入的文字效果，应使用的触发事件是（ ）

- A. onClick        B. ondblclick        C. onLoad        D. onkeyup

24. Dreamweaver CC 中页面属性的链接 CSS 选项不能设置（ ）

- A. 链接下划线        B. 链接的各种状态颜色  
C. 链接的文字字体        D. 链接文字的底纹

25. 在基于模板创建的网页中，在任何位置无法插入文本，原因可能是（ ）

- A. 文字不可以插入到基于模板创建的页面中    B. 模板中没有定义可编辑区域  
C. 模板中没有定义锁定区域        D. 该网页没有从模板中分离出来

26. Dreamweaver CC 中可以实现对网页内容精确定位的是（ ）

- A. 表格        B. 表单        C. 文本域        D. DIV

27. Dreamweaver CC 中代码<marquee behavior="slide">奋发向上</marquee>表示文字滚动效果是（ ）

- A. 循环滚动        B. 滚动一圈        C. 来回滚动        D. 交替滚动

28. Dreamweaver CC 中要让网页中文字在一个段落内分两行显示，可以（ ）

- A. 按 Enter        B. 按 Shift+Enter  
C. 代码中输入<p></p>        D. 代码中输入<hd>

29. Dreamweaver CC 中用于设置表格线粗细的是（ ）

- A. CellSpace        B. CellPad        C. Border        D. Class

30. Dreamweaver CC 中标签<hr>表示（ ）

- A. 插入水平线        B. 插入滚动文本    C. 插入图像        D. 设置标题文本

31. 如果你想获得更大的景深效果，选择的光圈值是（ ）

- A. F2.8        B. F16        C. F7.1        D. F4

32. 单反相机的内置闪光灯最好用于（ ）

- A. 在黑暗的房间里        B. 主体是背光的，你想用闪光灯填充阴影  
C. 需要柔和的光线时        D. 以上都不对

33. 在手动模式下拍摄时，可以控制曝光的是（ ）

- A. 光圈        B. 快门速度        C. ISO        D. 上述所有的

34. 现存世界上第一张照片《窗外风景》的拍摄者是（ ）

- A. 亚当斯        B. 达盖尔  
C. 尼埃普斯        D. 布列松

35. 微距镜头是一种（ ）镜头。

- A. 尺寸非常小的镜头        B. 用于拍摄极端特写  
C. 可以拍摄出漂亮的散景        D. 让你成为专业人士

36. 平移是一种用于冻结主体但允许主体周围区域模糊的技术。拍摄下一张照片时，可以使用的快门速度是（ ）

- A. 1/30 秒        B. 1/100 秒        C. 1/500 秒        D. B 门模式

37. “如果你拍的不够好，是因为你离的不够近”是以下哪位摄影师的名言（ ）

- A. 贝亚尔        B. 达尔伯特        C. 卡帕        D. 韦斯顿

38. 鱼镜头的焦距很短，特点是（ ）

- A. 抽象畸变        B. 口径很长  
C. 像场弯曲        D. 视场角大于等于 180 度

39. 光圈 f/16 比 f/8 少（ ）级曝光。

- A. 2        B. 4        C. 1/2        D. 1/4

40. 光源色温的高低是指光的（ ）

- A. 高度        B. 色彩        C. 纯度        D. 色差

41. 平面设计的构成是由概念元素、视觉元素、实用元素和（ ）

- A. 线面元素        B. 自由元素        C. 关系元素        D. 合作元素

42. 字体设计是增强 ( )、提高产品的诉求力、赋予版面审美价值的一种重要手段。

- A. 视觉传达效果
- B. 传达效果
- C. 文字功能
- D. 观赏性和清晰度

43. 设计的构成要素是骨骼和应用在骨骼上的 ( )

- A. 点
- B. 形态
- C. 特征
- D. 重复

44. 分割构成的几种形式包括形分割、随意分割、数列分割和 ( )

- A. 大小分割
- B. 色彩分割
- C. 比例分割
- D. 位置分割

45. 点在设计中应用的作用有提示、概括和简化图形、调节画面、活跃气氛和 ( )

- A. 彰显个性
- B. 凝聚力
- C. 强烈的形式感和视觉冲击
- D. 扩展空间

46. 字体设计的原则是 ( )。

- A. 适合性、关联性、美观性、创新性
- B. 原则性、易读性、美观性、创新性
- C. 适合性、易读性、美观性、设计性
- D. 适合性、易读性、美观性、创新性

47. 在图形艺术中, 图形是运用 ( ) 绘制出的可视的形象或形状。

- A. 线条和颜色
- B. 颜色和文字
- C. 线条和文字
- D. 文字和元素

48. 运用网格分割页面进行版面布局, 首先是确定出页面边缘的空白; 其次, 分割出行和列的数量; 最后分割出 ( )

- A. 设计元素和背景的色彩
- B. 主题内容
- C. 页面之间的关系
- D. 文字或图片的空隙

49. 以下人物及其代表作品对应正确的是 ( )

- A. 瓦尔特·格罗皮乌斯, 《点线面》
- B. 瓦西里·康定斯基, 《蓝色之山》
- C. 福田繁雄, 《B 颜色构图》
- D. 彼埃·蒙德里安, 《1945 年的胜利》

50. 在设计作品中, 画面的色调非常重要, 考虑色相对比时应该考虑 ( )

- A. 邻近色对比
- B. 冷暖色对比
- C. 面积对比
- D. 补色对比

### 卷二 (非选择题, 共100分)

#### 二、简答题 (本大题 6 个小题, 每小题 5 分, 共 30 分)

1. 回答下列参数出现在 PS CC 的何种工具或命令中, 并写出 (2)、(3) 作用是什么?

- (1) 自动抹除
- (2) 单色
- (3) 着色

2. 写出图层面板各按钮的名称。



3. Dreamweaver CC 中行为有哪两部分组成, 分别有什么含义?

4. 写出 Dreamweaver CC 中选择整个表格的五种方法。

5. 定焦镜头与变焦镜头相比有哪些优点?

6. 简述标志的作用。

#### 三、案例分析题 (本大题 6 个小题, 每小题 5 分, 共 30 分)

1. 有 3 张颜色模式为 CMYK 的图像, 将其中每一幅图像作为 RGB 中的一个颜色通道, 合成为一副新的图像, 请写出操作步骤。(每幅图像的尺寸及分辨率都不一样, 最终尺寸为 1280\*720 像素, 分辨率 72)

2. 在 Dreamweaver CC 中如何将图 3-1 中文本在不用文本输入的方式下, 设为图 3-2 中文本。

第一节

第二节

第三节

图 3-1

A. 第一节

B. 第二节

C. 第三节

图 3-2

3. 简述摄影构图的目的和目的
4. 简述摄影光源的分类与特点。
5. 根据图示按要求回答问题。
  - (1) 如图所示的版式属于什么类型?
  - (2) 这种版式的特点是什么?



6. 设计一幅平面作品，要表达“光明、华丽、兴奋、甜蜜、快乐，具有明亮、活泼的特性”，应该选用什么颜色？这种颜色属于暖色还是冷色？写出冷暖色的代表色及冷暖色的特点。

#### 四、综合应用题（本大题 4 小题，共 40 分）

1. 在 Photoshop CC 中，请新建一个文档，设置渐变背景颜色，并根据给定的素材图“扇子”和“风景”，利用图层蒙版、路径文字、图层的混合模式、图层样式等方法，制作出如图所示的效果图（注：扇子含有灰色描边样式，风景含有内发光样式，文字含有多种图层样式）请写出操作步骤。



扇子. jpg



风景. jpg



效果图. jpg

2. 图 1 所示网页已在 Dreamweaver CC 中打开，请按要求回答。



图 1



图 2

- (1) 将 banner. jpg（在站点根目录下 images 文件夹中）设置为表格第一行的背景图。
- (2) 在表格的第一行中插入 dh. swf（在站点根目录下 flash 文件夹中），并实现透明播放。
- (3) 在表格的第三行第一个单元格实现效果：鼠标指向 tp1. jpg 时变换为 tp2. jpg，单击打开 xh. html（在站点根目录文件夹中）。
- (4) 为导航条上的“咨询留言”添加邮件链接到 xhwz@163. com；“首页”设置空链接。

(5) 将图 1 表格的第三行第二个单元格中图文混排方式设为图 2 中图文混排效果。

3. 根据下面的摄影作品，结合所学知识回答以下问题：



(1) 通过分析上图，写出景深的定义。

(2) 根据上图简述影响景深的三要素。

(3) 景深一般用在哪些场合？

4. 根据图元按要求回答问题



(1) 上图所示运用了哪种字体设计的基本方法？请进行分析说明。

(2) 字体设计的基本方法还有哪些？

(3) 在字体创意设计过程中应遵循的准则是什么？